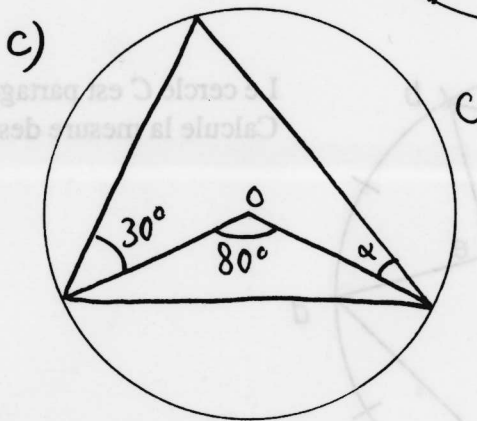
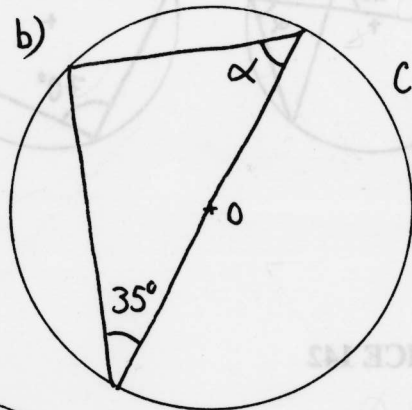
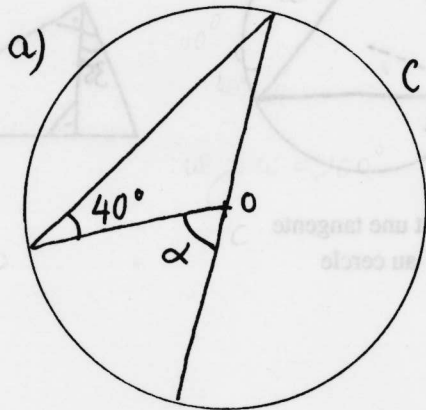


EXERCICE 139

EXERCICE 141

Voici des croquis. Le centre du cercle C est le point o .
 Calcule dans chaque cas la mesure de l'angle de l'angle α .
 Quelle est la mesure de l'angle α ?



EXERCICE 140

Voici des croquis. Le centre du cercle C est le point o .
 Calcule la mesure de l'angle de l'angle α .
 Quelle est la mesure de l'angle α ?

